

**ПРОЕКТ**

**Государственная итоговая аттестация по образовательным  
программам основного общего образования в форме  
основного государственного экзамена (ОГЭ)**

**Демонстрационный вариант  
контрольных измерительных материалов для проведения  
в 2019 году основного государственного экзамена  
по МАТЕМАТИКЕ**

подготовлен Федеральным государственным бюджетным  
научным учреждением  
«ФЕДЕРАЛЬНЫЙ ИНСТИТУТ ПЕДАГОГИЧЕСКИХ ИЗМЕРЕНИЙ»

**Демонстрационный вариант  
контрольных измерительных материалов для проведения  
в 2019 году основного государственного экзамена  
по МАТЕМАТИКЕ**

**Пояснения к демонстрационному варианту экзаменационной работы**

При ознакомлении с демонстрационным вариантом 2019 г. следует иметь в виду, что задания, включённые в демонстрационный вариант, не отражают всех элементов содержания, которые будут проверяться с помощью вариантов КИМ в 2019 г. Полный перечень элементов содержания, которые могут контролироваться на экзамене 2019 г., приведён в Кодификаторе элементов содержания и требований к уровню подготовки обучающихся для проведения основного государственного экзамена, размещённом на сайте: [www.fipi.ru](http://www.fipi.ru).

Демонстрационный вариант предназначен для того, чтобы дать возможность любому участнику экзамена и широкой общественности составить представление о структуре будущей экзаменационной работы, количестве и форме заданий, а также об их уровне сложности. Приведённые критерии оценивания выполнения заданий с развёрнутым ответом, включённые в этот вариант, позволят составить представление о требованиях к полноте и правильности записи развёрнутого ответа.

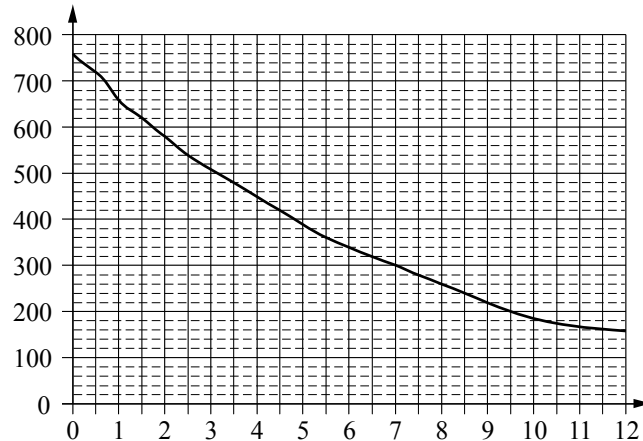
Эти сведения дают выпускникам возможность выработать стратегию подготовки к сдаче экзамена по математике.



4 Найдите значение выражения  $\sqrt{45} \cdot \sqrt{605}$ .

Ответ: \_\_\_\_\_.

5 На графике изображена зависимость атмосферного давления от высоты над уровнем моря. На горизонтальной оси отмечена высота над уровнем моря в километрах, на вертикальной — давление в миллиметрах ртутного столба. Определите по графику, на какой высоте атмосферное давление равно 620 миллиметрам ртутного столба. Ответ дайте в километрах.



Ответ: \_\_\_\_\_.

6 Решите уравнение  $x^2 + x - 12 = 0$ .

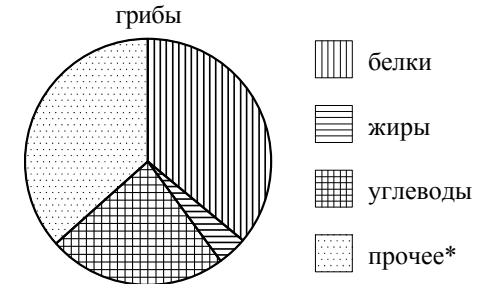
Если уравнение имеет более одного корня, в ответ запишите больший из корней.

Ответ: \_\_\_\_\_.

7 Стоимость проезда в электропоезде составляет 198 рублей. Школьникам предоставляется скидка 50%. Сколько рублей будет стоить проезд для 4 взрослых и 12 школьников?

Ответ: \_\_\_\_\_.

8 На диаграмме показано содержание питательных веществ в сушёных белых грибах.



\* к прочему относятся вода, витамины и минеральные вещества.

Какие из следующих утверждений верны?

- 1) В 1000 граммах грибов содержится примерно 360 г белков.
- 2) В 1000 граммах грибов содержится примерно 240 г углеводов.
- 3) В 1000 граммах грибов содержится примерно 160 г жиров.
- 4) В 1000 граммах грибов содержится примерно 500 г жиров, белков и углеводов.

В ответ запишите номера выбранных утверждений без пробелов, запятых и других дополнительных символов.

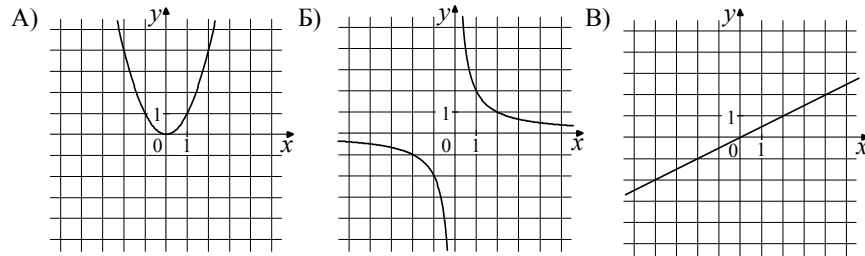
Ответ: \_\_\_\_\_.

9 На тарелке лежат пирожки, одинаковые на вид: 4 с мясом, 8 с капустой и 3 с яблоками. Петя наугад выбирает один пирожок. Найдите вероятность того, что пирожок окажется с яблоками.

Ответ: \_\_\_\_\_.

**10** Установите соответствие между графиками функций и формулами, которые их задают.

ГРАФИКИ



ФОРМУЛЫ

- 1)  $y = x^2$                       2)  $y = \frac{x}{2}$                       3)  $y = \frac{2}{x}$

В таблице под каждой буквой укажите соответствующий номер.

Ответ:

А	Б	В

**11** В последовательности чисел первое число равно 6, а каждое следующее больше предыдущего на 4. Найдите пятнадцатое число.

Ответ: \_\_\_\_\_.

**12** Найдите значение выражения  $9b + \frac{5a - 9b^2}{b}$  при  $a = 9, b = 36$ .

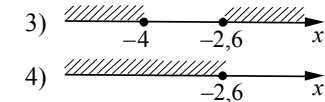
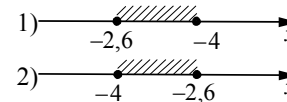
Ответ: \_\_\_\_\_.

**13** Чтобы перевести значение температуры по шкале Цельсия в шкалу Фаренгейта, пользуются формулой  $t_F = 1,8t_C + 32$ , где  $t_C$  — температура в градусах Цельсия,  $t_F$  — температура в градусах Фаренгейта. Скольким градусам по шкале Фаренгейта соответствует  $-25$  градусов по шкале Цельсия?

Ответ: \_\_\_\_\_.

**14** Укажите решение системы неравенств

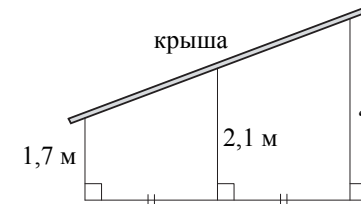
$$\begin{cases} x + 2,6 \leq 0, \\ x + 5 \geq 1. \end{cases}$$



Ответ:

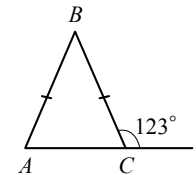
Модуль «Геометрия»

**15** Наклонная крыша установлена на трёх вертикальных опорах, основания которых расположены на одной прямой. Средняя опора стоит посередине между малой и большой опорами (см. рис.). Высота малой опоры 1,7 м, высота средней опоры 2,1 м. Найдите высоту большой опоры. Ответ дайте в метрах.



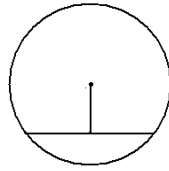
Ответ: \_\_\_\_\_.

**16** В равнобедренном треугольнике  $ABC$  с основанием  $AC$  внешний угол при вершине  $C$  равен  $123^\circ$ . Найдите величину угла  $BAC$ . Ответ дайте в градусах.



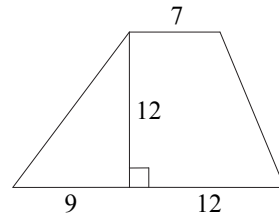
Ответ: \_\_\_\_\_.

- 17 Найдите длину хорды окружности радиусом 13, если расстояние от центра окружности до хорды равно 5.



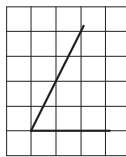
Ответ: \_\_\_\_\_.

- 18 Найдите площадь трапеции, изображённой на рисунке.



Ответ: \_\_\_\_\_.

- 19 Найдите тангенс острого угла, изображённого на рисунке.



Ответ: \_\_\_\_\_.

- 20 Какие из следующих утверждений верны?

- 1) Через точку, не лежащую на данной прямой, можно провести прямую, параллельную этой прямой.
- 2) Треугольник со сторонами 1, 2, 4 существует.
- 3) В любом параллелограмме есть два равных угла.

В ответ запишите номера выбранных утверждений без пробелов, запятых и других дополнительных символов.

Ответ: \_\_\_\_\_.



**Не забудьте перенести все ответы в бланк ответов № 1 в соответствии с инструкцией по выполнению работы. Проверьте, что каждый ответ записан в строке с номером соответствующего задания.**

## Часть 2

**При выполнении заданий 21–26 используйте БЛАНК ОТВЕТОВ № 2. Сначала укажите номер задания, а затем запишите его решение и ответ. Пишите чётко и разборчиво.**

### Модуль «Алгебра»

- 21 Решите уравнение  $x^4 = (4x - 5)^2$ .

- 22 Рыболов в 5 часов утра на моторной лодке отправился от пристани против течения реки, через некоторое время бросил якорь, 2 часа ловил рыбу и вернулся обратно в 10 часов утра того же дня. На какое расстояние от пристани он отплыл, если скорость течения реки равна 2 км/ч, а собственная скорость лодки 6 км/ч?

- 23 Постройте график функции  $y = \frac{x^4 - 13x^2 + 36}{(x-3)(x+2)}$  и определите, при каких значениях  $c$  прямая  $y = c$  имеет с графиком ровно одну общую точку.

### Модуль «Геометрия»

- 24 В прямоугольном треугольнике  $ABC$  с прямым углом  $C$  известны катеты:  $AC = 6$ ,  $BC = 8$ . Найдите медиану  $CK$  этого треугольника.

- 25 В параллелограмме  $ABCD$  точка  $E$  — середина стороны  $AB$ . Известно, что  $EC = ED$ . Докажите, что данный параллелограмм — прямоугольник.

- 26 Основание  $AC$  равнобедренного треугольника  $ABC$  равно 12. Окружность радиуса 8 с центром вне этого треугольника касается продолжений боковых сторон треугольника и касается основания  $AC$ . Найдите радиус окружности, вписанной в треугольник  $ABC$ .



**Проверьте, что каждый ответ записан рядом с номером соответствующего задания.**

## Система оценивания экзаменационной работы по математике

## Часть 1

За правильный ответ на каждое из заданий 1–20 ставится 1 балл.

Номер задания	Правильный ответ
1	0,32
2	3
3	2
4	165
5	1,5
6	3
7	1980
8	12; 21
9	0,2
10	132
11	62
12	1,25
13	–13
14	2
15	2,5
16	57
17	24
18	168
19	2
20	13; 31

## Часть 2

Решения и критерии оценивания заданий с развёрнутым ответом  
Модуль «Алгебра»

21 Решите уравнение  $x^4 = (4x - 5)^2$ .

Решение.

Исходное уравнение приводится к виду:

$$(x^2 - 4x + 5)(x^2 + 4x - 5) = 0.$$

Уравнение  $x^2 - 4x + 5 = 0$  не имеет корней.

Уравнение  $x^2 + 4x - 5 = 0$  имеет корни  $-5$  и  $1$ .

Ответ:  $-5$ ;  $1$ .

Баллы	Содержание критерия
2	Обоснованно получен верный ответ
1	Решение доведено до конца, но допущена описка или ошибка вычислительного характера, с её учётом дальнейшие шаги выполнены верно
0	Решение не соответствует ни одному из критериев, перечисленных выше
2	<i>Максимальный балл</i>

22 Рыболов в 5 часов утра на моторной лодке отправился от пристани против течения реки, через некоторое время бросил якорь, 2 часа ловил рыбу и вернулся обратно в 10 часов утра того же дня. На какое расстояние от пристани он отплыл, если скорость реки равна 2 км/ч, а собственная скорость лодки 6 км/ч?

Решение.

Пусть искомое расстояние равно  $x$  км. Скорость лодки при движении против течения равна 4 км/ч, при движении по течению равна 8 км/ч. Время, за которое лодка доплывёт от места отправления до места назначения и обратно, равно  $\left(\frac{x}{4} + \frac{x}{8}\right)$  часа. Из условия задачи следует, что это время

равно 3 часам. Составим уравнение:  $\frac{x}{4} + \frac{x}{8} = 3$ .

Решив уравнение, получим  $x = 8$ .

Ответ: 8 км.

Баллы	Содержание критерия
2	Ход решения задачи верный, получен верный ответ
1	Ход решения верный, все его шаги присутствуют, но допущена описка или ошибка вычислительного характера
0	Решение не соответствует ни одному из критериев, перечисленных выше
2	<i>Максимальный балл</i>

**23** Постройте график функции  $y = \frac{x^4 - 13x^2 + 36}{(x-3)(x+2)}$  и определите, при каких значениях  $c$  прямая  $y = c$  имеет с графиком ровно одну общую точку.

Решение.

Разложим числитель дроби на множители:

$$x^4 - 13x^2 + 36 = (x^2 - 4)(x^2 - 9) = (x-2)(x+2)(x-3)(x+3).$$

При  $x \neq -2$  и  $x \neq 3$  функция принимает вид:

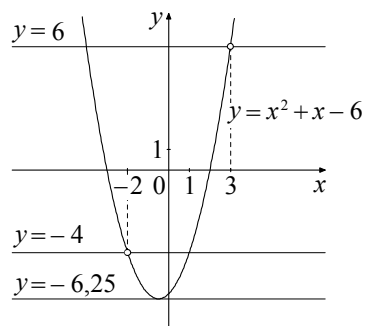
$$y = x^2 + x - 6,$$

её график — парабола, из которой выколоты точки  $(-2; -4)$  и  $(3; 6)$ .

Прямая  $y = c$  имеет с графиком ровно одну общую точку либо тогда, когда проходит через вершину параболы, либо тогда, когда пересекает параболу в двух точках, одна из которых — выколотая. Вершина параболы имеет координаты  $(-0,5; -6,25)$ .

Поэтому  $c = -6,25$ ,  $c = -4$  или  $c = 6$ .

Ответ:  $c = -6,25$ ;  $c = -4$ ;  $c = 6$ .



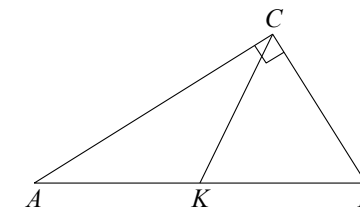
Баллы	Содержание критерия
2	График построен верно, верно найдены искомые значения параметра
1	График построен верно, но искомые значения параметра найдены неверно или не найдены
0	Решение не соответствует ни одному из критериев, перечисленных выше
2	<i>Максимальный балл</i>

**Модуль «Геометрия»**

**24** В прямоугольном треугольнике  $ABC$  с прямым углом  $C$  известны катеты:  $AC = 6$ ,  $BC = 8$ . Найдите медиану  $CK$  этого треугольника.

Решение.

$$CK = \frac{1}{2} AB = \frac{1}{2} \sqrt{AC^2 + BC^2} = \frac{1}{2} \sqrt{36 + 64} = 5.$$



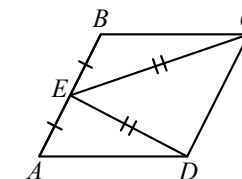
Ответ: 5.

Баллы	Содержание критерия
2	Ход решения верный, все его шаги выполнены правильно, получен верный ответ
1	Ход решения верный, все его шаги выполнены правильно, но даны неполные объяснения или допущена одна вычислительная ошибка
0	Решение не соответствует ни одному из критериев, перечисленных выше
2	<i>Максимальный балл</i>

**25** В параллелограмме  $ABCD$  точка  $E$  — середина стороны  $AB$ . Известно, что  $EC = ED$ . Докажите, что данный параллелограмм — прямоугольник.

Доказательство.

Треугольники  $BEC$  и  $AED$  равны по трём сторонам. Значит, углы  $CBE$  и  $DAE$  равны. Так как их сумма равна  $180^\circ$ , то углы равны  $90^\circ$ . Такой параллелограмм — прямоугольник.



Баллы	Содержание критерия
2	Доказательство верное, все шаги обоснованы
1	Доказательство в целом верное, но содержит неточности
0	Решение не соответствует ни одному из критериев, перечисленных выше
2	<i>Максимальный балл</i>

- 26 Основание  $AC$  равнобедренного треугольника  $ABC$  равно 12. Окружность радиуса 8 с центром вне этого треугольника касается продолжений боковых сторон треугольника и касается основания  $AC$ . Найдите радиус окружности, вписанной в треугольник  $ABC$ .

Решение.

Пусть  $O$  — центр данной окружности, а  $Q$  — центр окружности, вписанной в треугольник  $ABC$ .

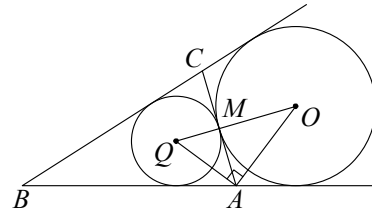
Точка касания  $M$  окружностей делит  $AC$  пополам.

Лучи  $AQ$  и  $AO$  — биссектрисы смежных углов, значит, угол  $OAQ$  прямой.

Из прямоугольного треугольника  $OAQ$  получаем:  $AM^2 = MQ \cdot MO$ . Следовательно,

$$QM = \frac{AM^2}{OM} = \frac{9}{2} = 4,5.$$

Ответ: 4,5.



Баллы	Содержание критерия
2	Ход решения верный, получен верный ответ
1	Ход решения верный, все его шаги присутствуют, но допущена описка или ошибка вычислительного характера
0	Решение не соответствует ни одному из критериев, перечисленных выше
2	<i>Максимальный балл</i>

В соответствии с Порядком проведения государственной итоговой аттестации по образовательным программам основного общего образования (приказ Минобрнауки России от 25.12.2013 № 1394 зарегистрирован Минюстом России 03.02.2014 № 31206)

«48. Экзаменационные работы проверяются двумя экспертами. По результатам проверки эксперты независимо друг от друга выставляют баллы за каждый ответ на задания экзаменационной работы... В случае существенного расхождения в баллах, выставленных двумя экспертами, назначается третья проверка. Существенное расхождение в баллах определено в критериях оценивания по соответствующему учебному предмету.

Третий эксперт назначается председателем предметной комиссии из числа экспертов, ранее не проверявших экзаменационную работу.

Третьему эксперту предоставляется информация о баллах, выставленных экспертами, ранее проверявшими экзаменационную работу обучающегося. Баллы, выставленные третьим экспертом, являются окончательными». Существенными считаются следующие расхождения:

1) расхождение в баллах, выставленных двумя экспертами за выполнение любого из заданий, в 2 балла. В этом случае третий эксперт проверяет ответ только на то задание, которое было оценено двумя экспертами со столь существенным расхождением.

2) расхождения экспертов при оценивании двух или более заданий в экзаменационной работе. В этом случае третий эксперт проверяет ответы на все задания с развёрнутым ответом 21–26.